

Opgave 1

Routebeschrijving Mijn plaatsen

Nijmegen
Barendrecht

Bestemming toevoegen - Opties weergeven
routebeschrijving

Voorgestelde routes

A15	108 km, 1 uur 12 min.
-----	-----------------------

Afstand heenreis

Tekst

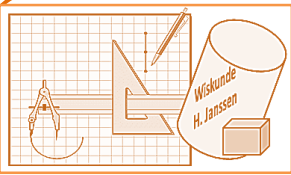
Diesel 1409
Euro 1699

De vader van Richard rijdt vanuit Nijmegen heen en terug naar Barendrecht. Zijn auto gebruikt euro-benzine.
Het verbruik is 1 liter op 12 kilometer.
Hoeveel kost deze reis aan benzine?

Opgave 2

Ik repareer gemiddeld
60 fietsen per week.

Bij 2 van de 5 fietsen moet de fietsenmaker een binnenband vervangen.
Hoeveel binnenbanden zijn dat per week?



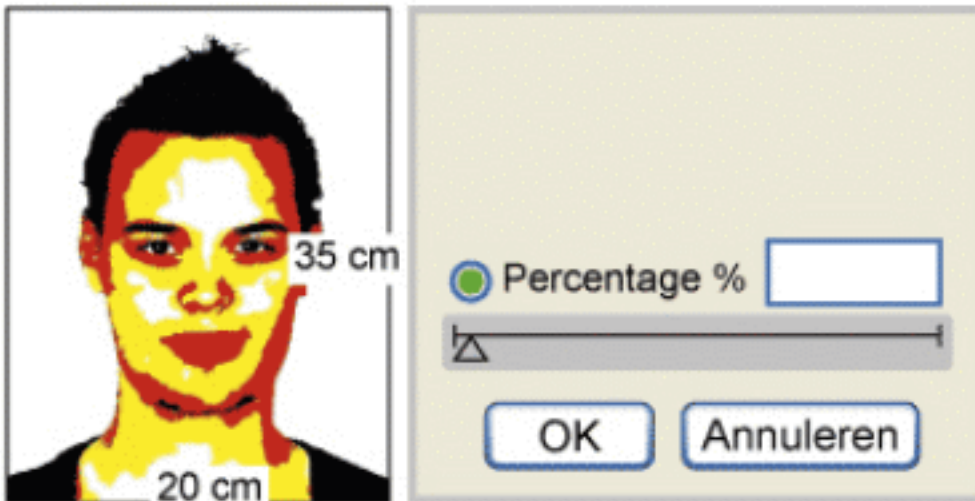
Opgave 3

Boerenkaas 1 kg voor €14,80



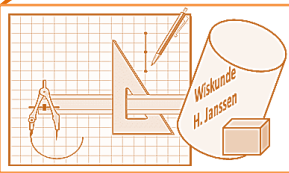
Hoeveel euro kost een stuk boerenkaas van 350 gram?

Opgave 4



Pieter gaat deze foto op een kopieerapparaat verkleinen.
De kopie moet 14 cm breed worden.

Wat wordt de hoogte van de kopie?



Opgave 5

Kranenbrug

Woensdag, 28 november 2012

In 2013 veel deelnemers aan

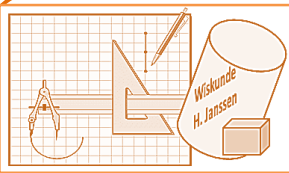
Er worden in 2013 veel hardlopers verwacht bij de marathon van Kranenburg. Het aantal lopers zal minimaal anderhalf keer zo groot zijn als dit jaar.

In 2012 deden 1520 hardlopers mee aan deze marathon.
Hoeveel hardlopers worden in 2013 minimaal verwacht?

Opgave 6

Josine koopt 14 Doornenburgse jongens.
Hoeveel moet zij betalen?





Opgave 7

Oliebollen



Nodig:
800 g bloem
300 g rozijnen
20 g gist
6 dl melk
4 eieren
2 zure appels

Tamara heeft maar 600 gram bloem in huis.
Hoeveel gram rozijnen heeft zij dan nodig?

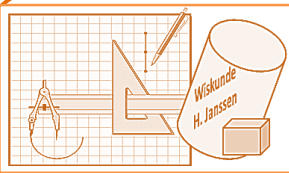
Opgave 8



200 ml



Deze jerrycan van 12 liter is voor $\frac{2}{3}$ deel gevuld met limonade.
Hoeveel plastic bekertjes kunnen hiermee worden gevuld?



Rekenen Oefening verhoudingen, leerjaar 3GL

R2.62

Opgave 9 Vmbo KB Wiskunde 2016-1

Bakkers uit Gouda hebben op 29 juni 2013 het wereldrecord 'grootste stroopwafel bakken' verbroken.



Voor het deeg werd bloem, suiker en gist gebruikt in de volgende verhouding: 500 gram bloem, 150 gram suiker, 14 gram gist.

Er is voor het deeg van de recordstroopwafel in totaal 30 kilogram bloem gebruikt. Bereken hoeveel gram gist er gebruikt is voor deze stroopwafel. Schrijf je berekening op.

Opgave 10 Vmbo KB Wiskunde 2015-1

Een fabrikant van broodbeleg heeft een verpakking gemaakt met daarin verschillende kleine doosjes broodbeleg.

Op de foto zie je een doosje en daarnaast de verpakking.



Een normale verpakking van 300 gram broodbeleg kost € 1,68.

De verpakking met acht kleine doosjes broodbeleg kost € 1,85 en bevat 140 gram broodbeleg.

Het broodbeleg in de doosjes kost per gram meer dan het broodbeleg in de normale verpakking.

Bereken hoeveel keer zoveel. Schrijf je berekening op. Rond je antwoord af op één decimaal.